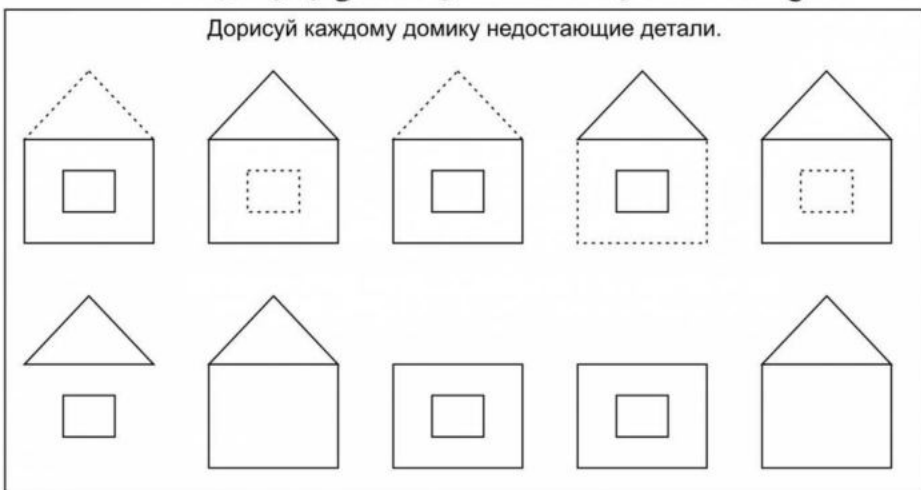
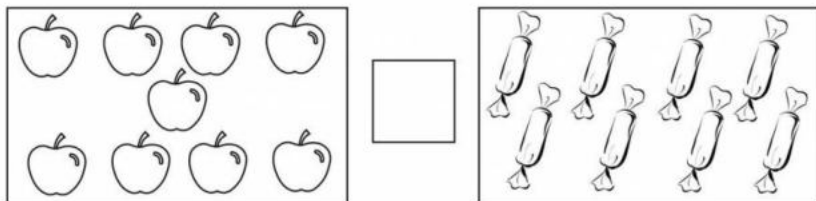
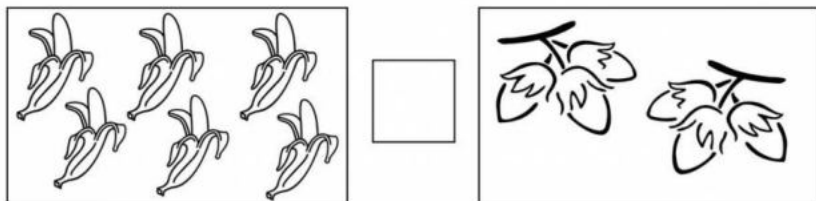
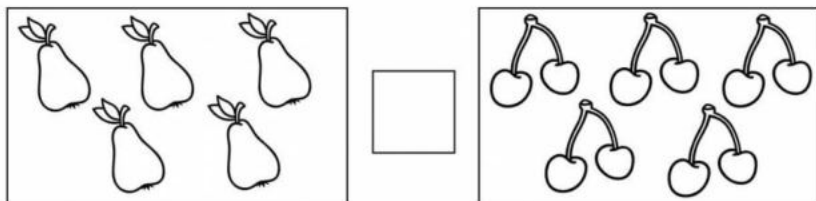


# ВЕСЁЛАЯ МАТЕМАТИКА

Дорисуй каждому домику недостающие детали.

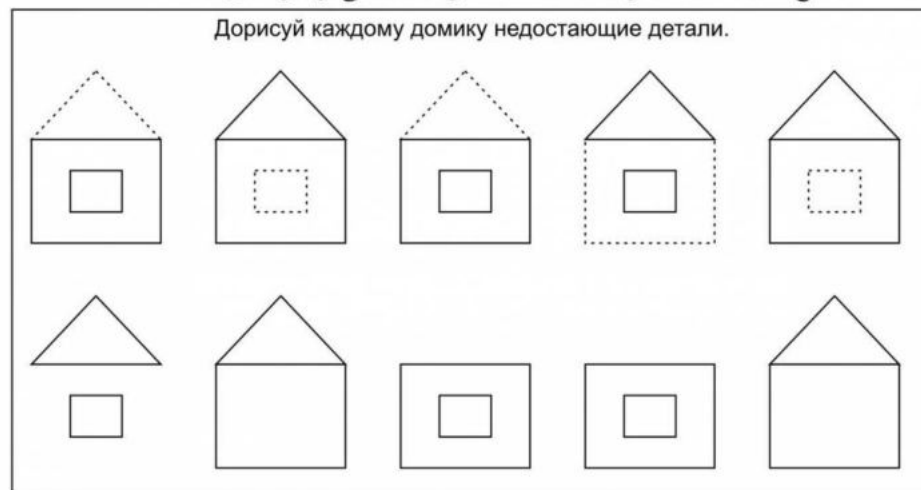


Посчитай предметы на картинках и впиши их количество в пустые клеточки.  
Сравни числа. Поставь знаки: <, >, =. Раскрась картинки.


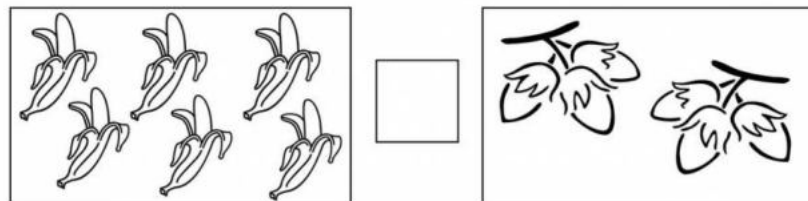
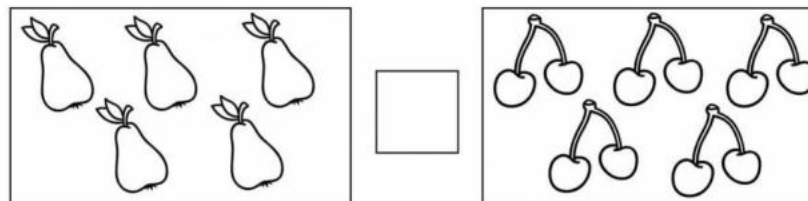


# ВЕСЁЛАЯ МАТЕМАТИКА

Дорисуй каждому домику недостающие детали.




Посчитай предметы на картинках и впиши их количество в пустые клеточки.  
Сравни числа. Поставь знаки: <, >, =. Раскрась картинки.



# ВЕСЁЛАЯ МАТЕМАТИКА

Раскрась картинку. Сколько нарисовано мальчиков? Сколько нарисовано девочек?  
Сколько всего детей?

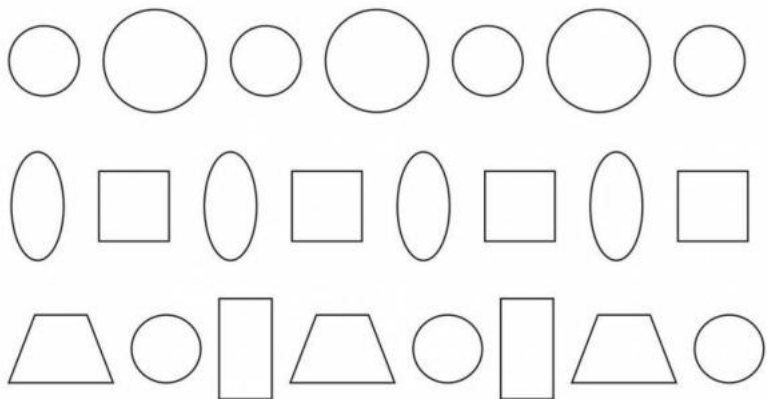


мальчиков


девочек        +  =

всего детей

Назови фигуры. Дорисуй подходящую фигуру в конце каждого ряда.




Соедини машины, начиная с самой маленькой.



# ВЕСЁЛАЯ МАТЕМАТИКА

Раскрась картинку. Сколько нарисовано мальчиков? Сколько нарисовано девочек?  
Сколько всего детей?

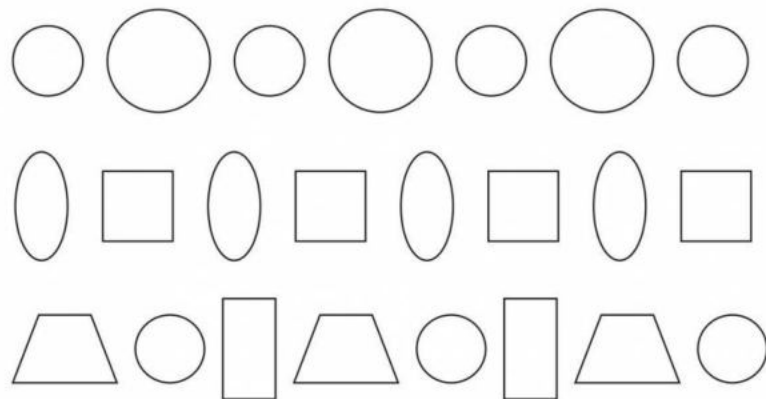


мальчиков


девочек        +  =

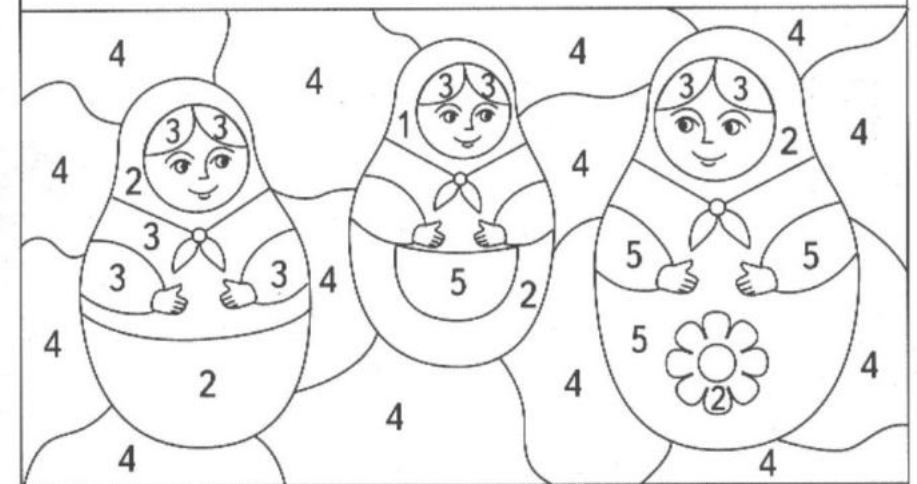
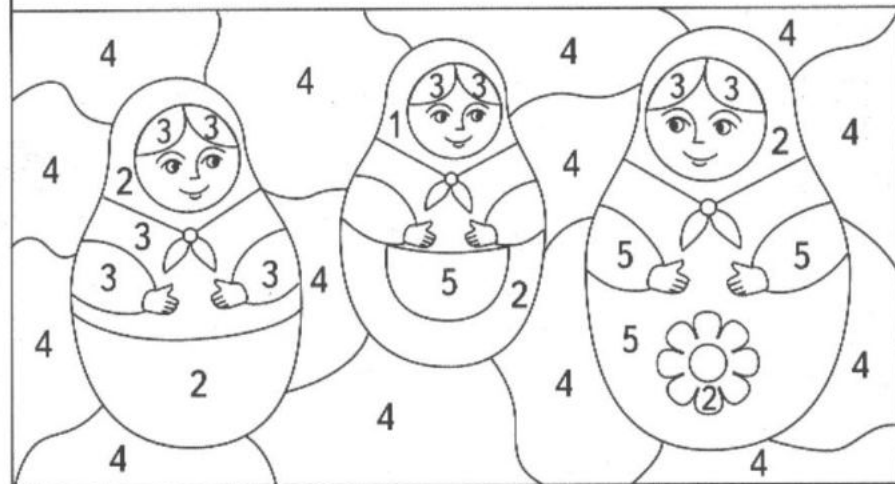
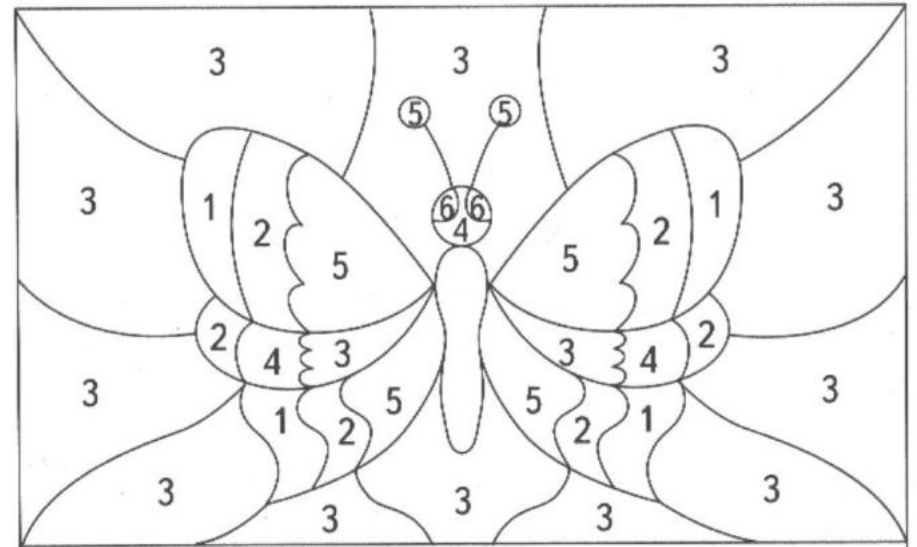
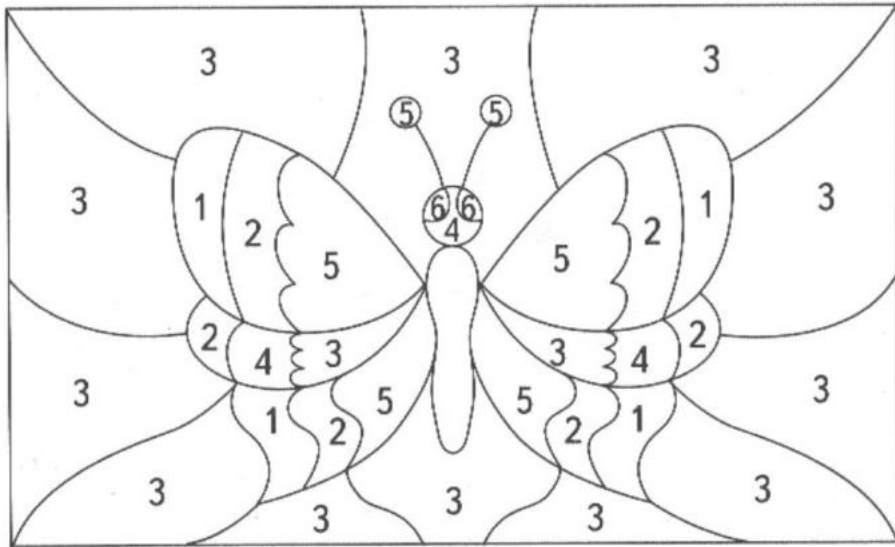
всего детей

Назови фигуры. Дорисуй подходящую фигуру в конце каждого ряда.



Соедини машины, начиная с самой маленькой.













































- |   |  |
|---|--|
| <span style="border: 1px solid black; padding: 2px;">1</span> - зелёным | <span style="border: 1px solid black; padding: 2px;">4</span> - синим      |
| <span style="border: 1px solid black; padding: 2px;">2</span> - красным | <span style="border: 1px solid black; padding: 2px;">5</span> - коричневым |
| <span style="border: 1px solid black; padding: 2px;">3</span> - жёлтым  | <span style="border: 1px solid black; padding: 2px;">6</span> - чёрным     |

- |   |  |
|---|--|
| <span style="border: 1px solid black; padding: 2px;">1</span> - зелёным | <span style="border: 1px solid black; padding: 2px;">4</span> - синим      |
| <span style="border: 1px solid black; padding: 2px;">2</span> - красным | <span style="border: 1px solid black; padding: 2px;">5</span> - коричневым |
| <span style="border: 1px solid black; padding: 2px;">3</span> - жёлтым  | <span style="border: 1px solid black; padding: 2px;">6</span> - чёрным     |

Проведи линии от рамок с числами к рамкам с таким же количеством предметов и точек.

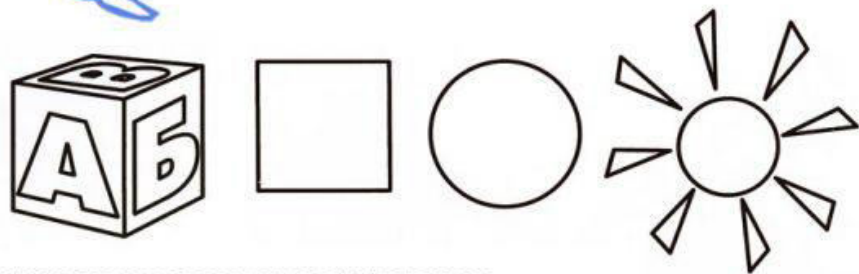
	1	
	2	
	3	
	4	
	5	
	6	
	7	
	8	
	9	
	10	

Проведи линии от рамок с числами к рамкам с таким же количеством предметов и точек.



	1	
	2	
	3	
	4	
	5	
	6	
	7	
	8	
	9	
	10	

Сколько всего предметов?  
 На каком по счету месте круг?  
 кубик?солнце? Какой  
 предмет на втором по  
 счету месте?

Дата: \_\_\_\_\_  
 Имя: \_\_\_\_\_

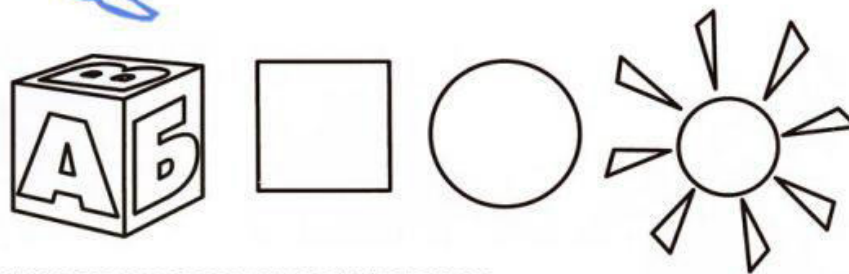


Составь задачи и запиши их решения.


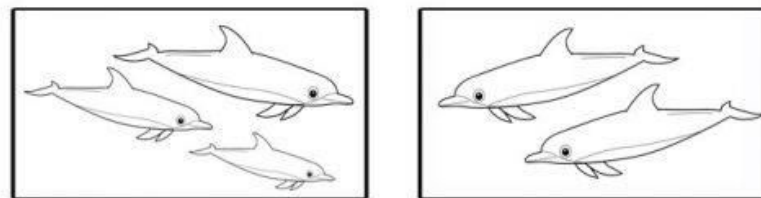


Сколько всего предметов?  
 На каком по счету месте круг?  
 кубик?солнце? Какой  
 предмет на втором по  
 счету месте?

Дата: \_\_\_\_\_  
 Имя: \_\_\_\_\_



Составь задачи и запиши их решения.



Впиши пропущенные числа

Дата: \_\_\_\_\_

Имя: \_\_\_\_\_

	17	
--	----	--

14		16
----	--	----

	10	
--	----	--

9		11
---	--	----

18		20
----	--	----

	13	
--	----	--

	19	
--	----	--

	5	
--	---	--

	18	
--	----	--

8		10
---	--	----

	15	
--	----	--

10		12
----	--	----

	16	
--	----	--

12		14
----	--	----

7		9
---	--	---

17		19
----	--	----

	13	
--	----	--

	19	
--	----	--

15		17
----	--	----

	6	
--	---	--

16		18
----	--	----

	11	
--	----	--

	18	
--	----	--

	14	
--	----	--

Впиши пропущенные числа

Дата: \_\_\_\_\_

Имя: \_\_\_\_\_

	17	
--	----	--

14		16
----	--	----

	10	
--	----	--

9		11
---	--	----

18		20
----	--	----

	13	
--	----	--

	19	
--	----	--

	5	
--	---	--

	18	
--	----	--

8		10
---	--	----

	15	
--	----	--

10		12
----	--	----

	16	
--	----	--

12		14
----	--	----

7		9
---	--	---

17		19
----	--	----

	13	
--	----	--

	19	
--	----	--

15		17
----	--	----

	6	
--	---	--

16		18
----	--	----

	11	
--	----	--



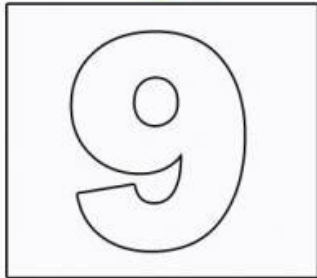
	18	
--	----	--

	14	
--	----	--


Изучаем цифру Девять.

Дата: \_\_\_\_\_

Имя: \_\_\_\_\_






Будь внимателен. Напиши, сколько звезд в каждой клетке.




Изучаем цифру Девять.

Дата: \_\_\_\_\_

Имя: \_\_\_\_\_



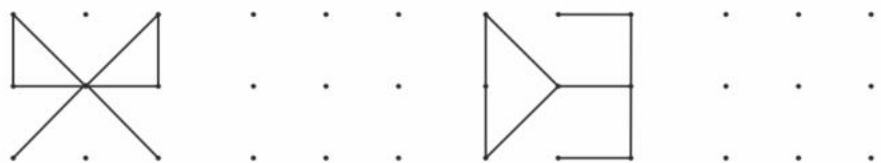
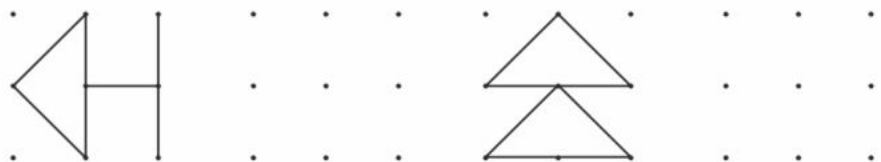
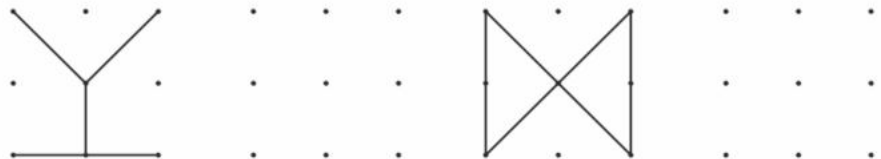
Будь внимателен. Напиши, сколько звезд в каждой клетке.





# ПОСЛУШНЫЙ КАРАНДАШ

Нарисуй фигуры по точкам.



# ПОСЛУШНЫЙ КАРАНДАШ

Нарисуй фигуры по точкам.

